

**ΕΠΑΝΑΛΗΠΤΙΚΕΣ ΑΠΟΛΥΤΗΡΙΕΣ ΕΞΕΤΑΣΕΙΣ
Γ' ΤΑΞΗΣ ΗΜΕΡΗΣΙΟΥ ΓΕΝΙΚΟΥ ΛΥΚΕΙΟΥ
ΠΑΡΑΣΚΕΥΗ 9 ΙΟΥΛΙΟΥ 2010
ΕΞΕΤΑΖΟΜΕΝΟ ΜΑΘΗΜΑ: ΦΥΣΙΚΗ
ΘΕΤΙΚΗΣ ΚΑΙ ΤΕΧΝΟΛΟΓΙΚΗΣ ΚΑΤΕΥΘΥΝΣΗΣ
(ΚΑΙ ΤΩΝ ΔΥΟ ΚΥΚΛΩΝ)
ΣΥΝΟΛΟ ΣΕΛΙΔΩΝ: ΕΠΤΑ (7)**

ΘΕΜΑ Α

Στις ημιτελείς προτάσεις Α1-Α4 να γράψετε στο τετράδιό σας τον αριθμό της πρότασης και δίπλα το γράμμα που αντιστοιχεί στη φράση, η οποία τη συμπληρώνει σωστά.

- Α1.** Όταν μια μικρή σφαίρα προσπίπτει πλάγια σε κατακόρυφο τοίχο και συγκρούεται με αυτόν ελαστικά, τότε
- α.** η κινητική ενέργεια της σφαίρας πριν την κρούση είναι μεγαλύτερη από την κινητική ενέργεια που έχει μετά την κρούση.
 - β.** η ορμή της σφαίρας δεν μεταβάλλεται κατά την κρούση.
 - γ.** η γωνία πρόσπτωσης της σφαίρας είναι ίση με τη γωνία ανάκλασης.
 - δ.** η δύναμη που ασκεί ο τοίχος στη σφαίρα έχει την ίδια διεύθυνση με την αρχική ταχύτητα της σφαίρας.

Μονάδες 5

- Α2.** Ένα ιδανικό κύκλωμα πηνίου-πυκνωτή εκτελεί ηλεκτρική ταλάντωση. Η ολική ενέργεια του κυκλώματος
- α.** παραμένει συνεχώς σταθερή.
 - β.** μειώνεται στα χρονικά διαστήματα στα οποία φορτίζεται ο πυκνωτής.
 - γ.** είναι μικρότερη από την ενέργεια του ηλεκτρικού πεδίου στον πυκνωτή.
 - δ.** είναι περιοδική συνάρτηση του χρόνου.

Μονάδες 5

- A3.** Η ροπή αδράνειας ενός στερεού σώματος ως προς άξονα περιστροφής
- α. είναι διανυσματικό μέγεθος.
 - β. έχει μονάδα μέτρησης το $1\text{N}\cdot\text{m}$, στο S.I.
 - γ. δεν εξαρτάται από την θέση του άξονα περιστροφής.
 - δ. εκφράζει την αδράνεια του σώματος στην περιστροφική κίνηση.

Μονάδες 5

- A4.** Κατά τη σύνθεση δύο απλών αρμονικών ταλαντώσεων της ίδιας συχνότητας, που γίνονται γύρω από το ίδιο σημείο στην ίδια διεύθυνση και έχουν διαφορά φάσης 180° , το πλάτος της σύνθετης ταλάντωσης είναι

α. $A_1 + A_2$

β. $\sqrt{A_1^2 + A_2^2}$

γ. $|A_1 - A_2|$

δ. $\sqrt{|A_1^2 - A_2^2|}$

όπου A_1 και A_2 είναι τα πλάτη των αρχικών ταλαντώσεων.

Μονάδες 5

- A5.** Να γράψετε στο τετράδιό σας το γράμμα κάθε πρότασης και δίπλα σε κάθε γράμμα τη λέξη **Σωστό**, για τη σωστή πρόταση, και τη λέξη **Λάθος**, για τη λανθασμένη.

- α. Κατά την ελαστική κρούση μεταξύ δύο σφαιρών ελαττώνεται η κινητική ενέργεια του συστήματος των σφαιρών.
- β. Όταν ένας αστέρας συρρικνώνεται λόγω βαρύτητας, η γωνιακή ταχύτητά του λόγω ιδιοπεριστροφής αυξάνεται.

ΑΡΧΗ 3ΗΣ ΣΕΛΙΔΑΣ

- γ. Όταν σε μια ελαστική χορδή δημιουργείται στάσιμο κύμα, τότε όλα τα σημεία της χορδής διέρχονται ταυτόχρονα από τη θέση ισορροπίας τους.
- δ. Οι ακτίνες γ έχουν μήκος κύματος της τάξεως των μερικών mm.
- ε. Ένας λόγος για τον οποίο χάνει ενέργεια ένα κύκλωμα ηλεκτρικών ταλαντώσεων LC είναι ότι εκπέμπει ηλεκτρομαγνητική ακτινοβολία.

Μονάδες 5

ΘΕΜΑ Β

B1. Οι παρακάτω εξισώσεις περιγράφουν ένα μεταβαλλόμενο ηλεκτρικό και ένα μεταβαλλόμενο μαγνητικό πεδίο αντίστοιχα

$$E = 3 \cdot 10^2 \eta\mu 2\pi(8 \cdot 10^{11}t - 4 \cdot 10^3x) \quad (\text{S.I.})$$

$$B = 10^{-6} \eta\mu 2\pi(8 \cdot 10^{11}t - 4 \cdot 10^3x) \quad (\text{S.I.})$$

Οι εξισώσεις αυτές

- α. μπορεί να περιγράψουν ένα ηλεκτρομαγνητικό (H/M) κύμα που διαδίδεται στο κενό.
- β. μπορεί να περιγράψουν ένα H/M κύμα που διαδίδεται σε ένα υλικό.
- γ. δεν μπορεί να περιγράψουν ένα H/M κύμα.

Δίνεται η ταχύτητα του φωτός στο κενό $c = 3 \cdot 10^8$ m/s.

Να επιλέξετε τη σωστή απάντηση (μονάδες 2).

Να δικαιολογήσετε την επιλογή σας (μονάδες 6).

Μονάδες 8

B2. Μια ηχητική πηγή εκπέμπει ήχο σταθερής συχνότητας και κινείται με σταθερή ταχύτητα. Στην ευθεία που κινείται η πηγή βρίσκεται ακίνητος παρατηρητής. Η συχνότητα του ήχου που αντιλαμβάνεται ο παρατηρητής όταν τον έχει προσπεράσει είναι κατά 30% μικρότερη από τη συχνότητα που αντιλαμβανόταν, όταν τον πλησίαζε η πηγή. Αν η ταχύτητα του ήχου στον αέρα είναι v , τότε η ταχύτητα της πηγής είναι

α. $\frac{2v}{17}$, β. $\frac{3v}{17}$, γ. $\frac{4v}{17}$

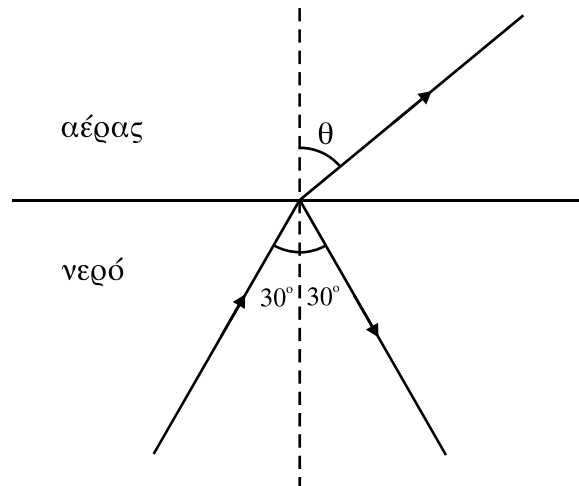
ΑΡΧΗ 4ΗΣ ΣΕΛΙΔΑΣ

Να επιλέξετε τη σωστή απάντηση (μονάδες 2).

Να δικαιολογήσετε την επιλογή σας (μονάδες 6).

Μονάδες 8

B3. Μονοχρωματική ακτίνα φωτός διαδίδεται στο νερό και προσπίπτει στην ελεύθερη επιφάνειά του με γωνία 30° . Η ακτίνα εξέρχεται στον αέρα, όπως φαίνεται στο σχήμα



Αν v είναι η ταχύτητα του φωτός στο νερό και c στον αέρα, τότε ισχύει

- α. $v < \frac{c}{2}$, β. $v = \frac{c}{2}$, γ. $v > \frac{c}{2}$

Δίνεται ότι $\eta\mu 30^\circ = 1/2$

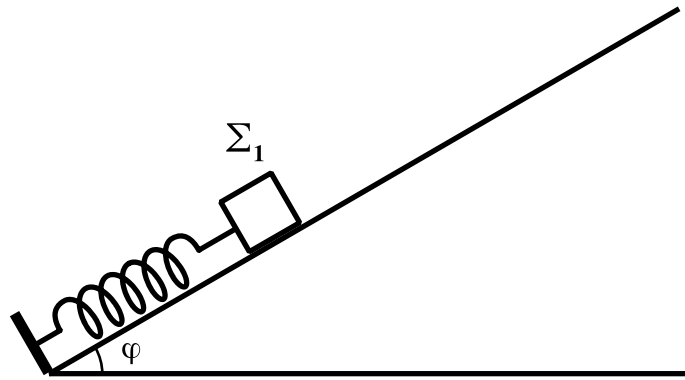
Να επιλέξετε τη σωστή απάντηση (μονάδες 2).

Να δικαιολογήσετε την επιλογή σας (μονάδες 7).

Μονάδες 9

ΘΕΜΑ Γ

Σώμα Σ_1 μάζας $m_1 = 1\text{kg}$ ισορροπεί πάνω σε λείο κεκλιμένο επίπεδο που σχηματίζει με τον ορίζοντα γωνία $\varphi = 30^\circ$. Το σώμα Σ_1 είναι δεμένο στην άκρη ιδανικού ελατηρίου σταθεράς $K = 100\text{N/m}$ το άλλο άκρο του οποίου στερεώνεται στη βάση του κεκλιμένου επιπέδου, όπως φαίνεται στο σχήμα.



Εκτρέπουμε το σώμα Σ_1 κατά $d_1 = 0,1\text{m}$ από τη θέση ισορροπίας του κατά μήκος του κεκλιμένου επιπέδου και το αφήνουμε ελεύθερο.

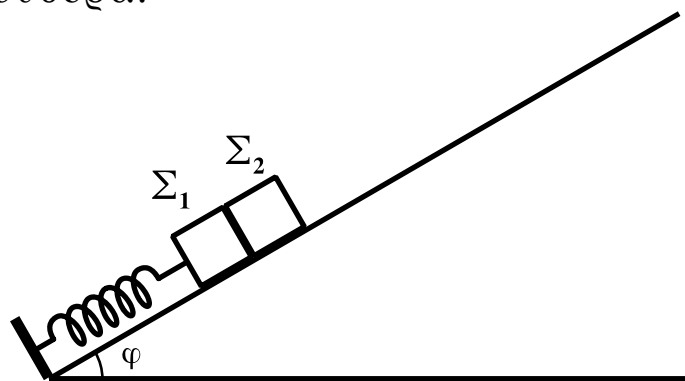
Γ1. Να αποδείξετε ότι το σώμα Σ_1 εκτελεί απλή αρμονική ταλάντωση.

Μονάδες 5

Γ2. Να υπολογίσετε τη μέγιστη τιμή του μέτρου του ρυθμού μεταβολής της ορμής του σώματος Σ_1 .

Μονάδες 5

Μετακινούμε το σώμα Σ_1 προς τα κάτω κατά μήκος του κεκλιμένου επιπέδου μέχρι το ελατήριο να συμπιεστεί από το φυσικό του μήκος κατά $\Delta l = 0,3\text{m}$. Τοποθετούμε ένα δεύτερο σώμα Σ_2 μάζας $m_2 = 1\text{kg}$ στο κεκλιμένο επίπεδο, ώστε να είναι σε επαφή με το σώμα Σ_1 , και ύστερα αφήνουμε τα σώματα ελεύθερα.



Γ3. Να υπολογίσετε τη σταθερά επαφής του σώματος Σ_2 κατά τη διάρκεια της ταλάντωσης του.

Μονάδες 6

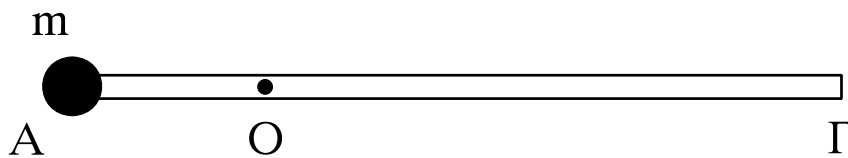
Γ4. Να υπολογίσετε σε πόση απόσταση από τη θέση που αφήσαμε ελεύθερα τα σώματα χάνεται η επαφή μεταξύ τους.

Μονάδες 9

Δίνονται: $\eta\mu 30^\circ = 1/2$, $g = 10\text{m/s}^2$

ΘΕΜΑ Δ

Λεπτή ομογενής ράβδος ΑΓ μήκους ℓ και μάζας M μπορεί να στρέφεται γύρω από οριζόντιο άξονα κάθετο στη ράβδο χωρίς τριβές, ο οποίος διέρχεται από το σημείο O της ράβδου. Η απόσταση του σημείου O από το A είναι $\frac{\ell}{4}$. Στο άκρο A της ράβδου στερεώνεται σημειακή μάζα m , όπως φαίνεται στο σχήμα.



Η ράβδος ισορροπεί σε οριζόντια θέση και δέχεται από τον άξονα δύναμη μέτρου $F = 20\text{N}$.

Δ1. Να υπολογιστούν οι μάζες m και M .

Μονάδες 5

Στη συνέχεια τοποθετούμε τον άξονα περιστροφής της ράβδου στο άκρο Γ , ώστε να παραμένει οριζόντιος και κάθετος στη ράβδο, και αφήνουμε το σύστημα ελεύθερο να περιστραφεί από την οριζόντια θέση. Να υπολογίσετε:

Δ2. το μήκος ℓ της ράβδου, αν τη στιγμή που αφήνεται ελεύθερη έχει γωνιακή επιτάχυνση μέτρου $\alpha_{\gamma\omega\nu} = 3,75\text{rad/s}^2$.

Μονάδες 7

Δ3. το λόγο της κινητικής ενέργειας της μάζας m προς τη συνολική κινητική ενέργεια του συστήματος, κατά τη διάρκεια της περιστροφής του συστήματος των δύο σωμάτων.

Μονάδες 5

Δ4. το μέτρο της στροφορμής του συστήματος των δύο σωμάτων, όταν η ράβδος έχει στραφεί κατά γωνία φ ως προς την οριζόντια διεύθυνση τέτοια, ώστε $\eta\mu\varphi = 0,3$.

Μονάδες 8

Δίνονται: επιτάχυνση βαρύτητας $g = 10\text{m/s}^2$, ροπή αδράνειας της ράβδου ως προς άξονα κάθετο στη ράβδο που διέρχεται από το κέντρο μάζας της $I_{\text{cm}} = \frac{1}{12}M\ell^2$.

ΟΔΗΓΙΕΣ ΓΙΑ ΤΟΥΣ ΕΞΕΤΑΖΟΜΕΝΟΥΣ

- 1.** Στο τετράδιο να γράψετε **μόνον** τα προκαταρκτικά (ημερομηνία, εξεταζόμενο μάθημα, κατεύθυνση). **Να μην αντιγράψετε** τα θέματα στο τετράδιο.
- 2.** Να γράψετε το ονοματεπώνυμό σας στο πάνω μέρος των φωτοαντιγράφων, αμέσως μόλις σας παραδοθούν. **Καμιά άλλη σημείωση δεν επιτρέπεται να γράψετε.** Κατά την αποχώρησή σας να παραδώσετε μαζί με το τετράδιο και τα φωτοαντίγραφα.
- 3.** Να απαντήσετε **στο τετράδιό σας σε όλα** τα θέματα.
- 4.** Να γράψετε τις απαντήσεις σας **μόνο με μπλε ή μόνο με μαύρο στυλό διαρκείας και μόνον ανεξίτηλης μελάνης.** Μπορείτε να χρησιμοποιήσετε μολύβι μόνο για σχέδια, διαγράμματα και πίνακες.
- 5. Να μην χρησιμοποιήσετε το χαρτί μιλιμετρέ που βρίσκεται στο τέλος του τετραδίου**
- 6.** Κάθε απάντηση επιστημονικά τεκμηριωμένη είναι αποδεκτή.
- 7.** Διάρκεια εξέτασης: τρεις (3) ώρες μετά τη διανομή των φωτοαντιγράφων.
- 8.** Χρόνος δυνατής αποχώρησης: 09.30 π.μ.

ΚΑΛΗ ΕΠΙΤΥΧΙΑ

ΤΕΛΟΣ ΜΗΝΥΜΑΤΟΣ