

ΦΥΣΙΚΗ

ΓΕΝΙΚΗΣ ΠΑΙΔΕΙΑΣ Γ' ΛΥΚΕΙΟΥ & ΕΠΑ.Λ. Β'

17 ΜΑΪΟΥ 2010

ΕΚΦΩΝΗΣΕΙΣ

ΘΕΜΑ Α

Στις ερωτήσεις **A1-A3** να γράψετε στο τετράδιό σας τον αριθμό της ερώτησης και δίπλα το γράμμα που αντιστοιχεί στη φράση, η οποία συμπληρώνει σωστά την ημιτελή πρόταση.

A1. Το ουράνιο τόξο είναι αποτέλεσμα

- α. της απορρόφησης του φωτός από την ατμόσφαιρα.
- β. της μονοχρωματικότητας του ηλιακού φωτός.
- γ. του διασκεδασμού και της ολικής ανάκλασης του λευκού φωτός.
- δ. των ιδιοτήτων της υπέρυθρης ακτινοβολίας.

Μονάδες 5

A2. Στους λαμπτήρες πυρακτώσεως το νήμα του βολφραμίου είναι διαμορφωμένο σε πολύ πυκνές σπείρες. Αυτό γίνεται διότι

- α. το νήμα έτσι έχει μικρότερη αντίσταση.
- β. ελαχιστοποιείται η απαγωγή θερμότητας από το εσωτερικό των σπειρών, με αποτέλεσμα το νήμα να διατηρείται θερμότερο και να εκπέμπει περισσότερο φως.
- γ. αποφεύγεται η εξάχνωση του βολφραμίου.
- δ. το νήμα δημιουργεί μαγνητικό πεδίο που είναι απαραίτητο για τη λειτουργία του λαμπτήρα.

Μονάδες 5

A3. Η υπέρυθρη ακτινοβολία

- α. έχει μικρότερο μήκος κύματος στο κενό από την ορατή.
- β. προκαλεί το μαύρισμα του δέρματός μας, όταν εκτιθέμεθα στον ήλιο.
- γ. δεν προκαλεί το φαινόμενο του φωσφορισμού.
- δ. συμμετέχει στην μετατροπή του οξυγόνου της ατμόσφαιρας σε όζον.

Μονάδες 5

A4. Ποια από τις παρακάτω προτάσεις, που αναφέρονται στην πυρηνική σύντηξη των πυρήνων ${}^1_1\text{H}$ με τον κύκλο πρωτονίου-πρωτονίου, είναι **λάθος**;

- α. Τέσσερις πυρήνες ${}^1_1\text{H}$ συντήκονται και δημιουργούν ένα πυρήνα ${}^4_2\text{He}$
- β. Οι πυρήνες ${}^1_1\text{H}$ πρέπει να έχουν πολύ μεγάλη κινητική ενέργεια, ώστε να πλησιάσουν σε απόσταση που δρουν οι ισχυρές πυρηνικές δυνάμεις.
- γ. Η συνολική αντίδραση είναι ενδόθερμη.
- δ. Οι πυρηνικές αυτές αντιδράσεις πιστεύεται ότι συμβαίνουν στο εσωτερικό του Ηλίου και των άλλων άστρων.

Μονάδες 5

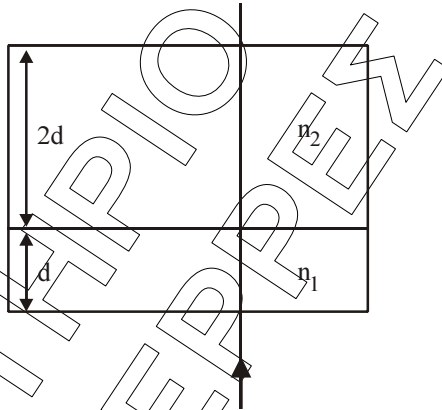
A5. Να χαρακτηρίσετε τις προτάσεις που ακολουθούν, γράφοντας στο τετράδιό σας δίπλα στο γράμμα που αντιστοιχεί σε κάθε πρόταση, τη λέξη **Σωστό**, αν η πρόταση είναι σωστή, ή **Λάθος**, αν η πρόταση είναι λανθασμένη.

- α. Η μονάδα ατομικής μάζας u ορίζεται ως το $\frac{1}{12}$ της μάζας του πυρήνα του $^{16}_8\text{O}$
- β. Οι ακτίνες X είναι ταχέως κινούμενα ηλεκτρόνια.
- γ. Η φθορίζουσα ουσία στους λαμπτήρες φθορισμού απορροφά υπεριώδη ακτινοβολία και εκπέμπει ορατή.
- δ. Η θεωρία των κβάντα δεν αναιρεί την κυματική φύση του φωτός.
- ε. Οι ισχυρές πυρηνικές δυνάμεις είναι διαφορετικές, όταν αναπτύσσονται μεταξύ δύο πρωτονίων και διαφορετικές, όταν αναπτύσσονται μεταξύ δύο νετρονίων.

Μονάδες 5

ΘΕΜΑ Β

B1. Μονοχρωματική ακτίνα φωτός διαπερνά διαδοχικά δύο οπτικά υλικά με δείκτες διάθλασης n_1 και n_2 αντίστοιχα, όπου $n_2 = 1,5 \cdot n_1$



Η ακτίνα προσπίπτει κάθετα στις διαχωριστικές επιφάνειες των δύο οπτικών υλικών, όπως φαίνεται στο σχήμα. Τα δύο οπτικά υλικά έχουν πάχος d και $2d$ αντίστοιχα.

Στο οπτικό υλικό με δείκτη διάθλασης n_1 το πάχος d ισούται με 10^5 μήκη κύματος της ακτινοβολίας στο μέσο αυτό. Με πόσα μήκη κύματος της ακτινοβολίας στο μέσο με δείκτη διάθλασης n_2 ισούται το πάχος $2d$;

- α) $2 \cdot 10^5$, β) $0,75 \cdot 10^5$, γ) $3 \cdot 10^5$

Να επιλέξετε τη σωστή απάντηση (μονάδες 2).

Να δικαιολογήσετε την επιλογή σας (μονάδες 6).

Μονάδες 8

B2. Δύο δέσμες ακτίνων X παράγονται από συσκευές στις οποίες η τάση μεταξύ ανόδου-καθόδου είναι V_1 για την πρώτη δέσμη και V_2 για τη δεύτερη. Οι δέσμες προσπίπτουν σε μια πλάκα. Η πρώτη δέσμη απορροφάται πλήρως από την πλάκα, ενώ η δεύτερη την διαπερνά. Ποια από τις παρακάτω συνθήκες ισχύει;

- α) $V_1 > V_2$, β) $V_1 < V_2$, γ) $V_1 = V_2$

Να επιλέξετε τη σωστή απάντηση (μονάδες 2).

Να δικαιολογήσετε την επιλογή σας (μονάδες 6).

Μονάδες 8

B3. Ένας πυρήνας X με μαζικό αριθμό 250 και ενέργεια σύνδεσης ανά νουκλεόνιο 7,5 MeV, διασπάται σε 2 πυρήνες: 1) τον Y με μαζικό αριθμό 100 και ενέργεια σύνδεσης ανά νουκλεόνιο 8,8 MeV και 2) τον Ω με μαζικό αριθμό 150 και ενέργεια σύνδεσης ανά νουκλεόνιο 8,2 MeV. Κατά την διαδικασία αυτή

- α) εκλύεται ενέργεια.
- β) απορροφάται ενέργεια.
- γ) ούτε εκλύεται ούτε απορροφάται ενέργεια.

Να επιλέξετε τη σωστή απάντηση (μονάδες 2).
Να δικαιολογήσετε την επιλογή σας (μονάδες 7).

Μονάδες 9

ΘΕΜΑ Γ

Ηλεκτρόνια επιταχύνονται από τάση V και στη συνέχεια προσπίπτουν σε άτομα υδρογόνου, τα οποία βρίσκονται στη θεμελιώδη τους κατάσταση. Κατά την πρόσπτωση αυτή τα άτομα του υδρογόνου διεγείρονται στην 3^η διεγερμένη κατάσταση ($n = 4$). Να υπολογισθεί:

Γ1. Το μέτρο της στροφορμής του ηλεκτρονίου ενός διεγερμένου ατόμου υδρογόνου το οποίο βρίσκεται στην τροχιά με $n=4$.

Μονάδες 5

Γ2. Η ελάχιστη τιμή της τάσης V με την οποία επιταχύνθηκαν τα ηλεκτρόνια που προκάλεσαν τη διέγερση των ατόμων του υδρογόνου.

Μονάδες 6

Γ3. Ο λόγος των κινητικών ενεργειών K_4/K_1 των ηλεκτρονίων του ατόμου του υδρογόνου, όπου K_1 η κινητική ενέργεια του ατόμου στην τροχιά με $n = 1$ και K_4 η κινητική ενέργεια του ατόμου στην τροχιά με $n=4$.

Μονάδες 7

Γ4. Η δυναμική ενέργεια του ηλεκτρονίου στην τροχιά με $n=4$.

Μονάδες 7

Δίνονται: $E_1 = -13,6 \text{ eV}$, η ενέργεια του ατόμου του υδρογόνου στη θεμελιώδη κατάσταση και $\hbar = \frac{h}{2\pi} = 10^{-34} \text{ J} \cdot \text{s}$

ΘΕΜΑ Δ

Το ${}_{83}^{214}\text{Bi}$ (βισμούθιο) είναι ένα ραδιενεργό ισότοπο. Οι πυρήνες του βισμούθιου μπορούν να διασπασθούν με δύο διαφορετικούς τρόπους, με διάσπαση α ή με διάσπαση β^- . Κατά τις διασπάσεις αυτές ο χρόνος υποδιπλασιασμού του βισμούθιου είναι $T_{1/2} = 20 \text{ min}$. Κατά τη διάσπαση α παράγεται Tl (θάλιο) και κατά την διάσπαση β^- παράγεται Po (πολώνιο). Η διάσπαση α πραγματοποιείται σε ποσοστό 0,4%, ενώ κατά το υπόλοιπο ποσοστό πραγματοποιείται η διάσπαση β^- .

Τη χρονική στιγμή $t_0 = 0$ διαθέτουμε ένα δείγμα $N_0 = 9,6 \cdot 10^{18}$ πυρήνων ${}_{83}^{214}\text{Bi}$.

Δ1. Να γράψετε τις πυρηνικές αντιδράσεις διάσπασης α και β^- που πραγματοποιούνται.

Μονάδες 6

Δ2. Να υπολογίσετε την ενεργότητα του δείγματος αυτού τη χρονική στιγμή $t_1 = 60 \text{ min}$.

Μονάδες 7

Δ3. Να γίνει η γραφική παράσταση του αριθμού N των πυρήνων ${}_{83}^{214}\text{Bi}$ που παραμένουν αδιάσπαστοι σε συνάρτηση με το χρόνο για χρονικό διάστημα από $t_0 = 0$ έως $t_1 = 60 \text{ min}$. Στη γραφική παράσταση να φαίνονται οι συντεταγμένες 4 σημείων της καμπύλης.

Μονάδες 5

(Η γραφική παράσταση να γίνει με στυλό ή με μολύβι στο μιλιμετρέ χαρτί που βρίσκεται στο τέλος του τετραδίου).

Δ4. Να υπολογίσετε τον αριθμό των σωματίων α που παράχθηκαν στο χρονικό διάστημα από $t_0 = 0$ έως $t_2 = 40 \text{ min}$.

Μονάδες 7

Δίνεται $\ln 2 = 0,7$

ΦΥΣΙΚΗ

ΓΕΝΙΚΗΣ ΠΑΙΔΕΙΑΣ Γ' ΛΥΚΕΙΟΥ & ΕΠΑ.Λ. Β'

17 ΜΑΪΟΥ 2010

ΑΠΑΝΤΗΣΕΙΣ

ΘΕΜΑ Α

A1. → γ

A2. → β

A3. → γ

A4. → γ

A5. α. → Λ

β. → Λ

γ. → Σ

δ. → Σ

ε. → Λ

ΘΕΜΑ Β

B1.

$$n_1: \left. \begin{aligned} d &= 10^5 \cdot \lambda_1 \\ 2d &= \kappa \cdot \lambda_2 \end{aligned} \right\} \Rightarrow \frac{1}{2} = \frac{10^5 \cdot \lambda_1}{\kappa \cdot \lambda_2} \Rightarrow \frac{1}{2} = \frac{10^5 \cdot \frac{\lambda_0}{n_1}}{\kappa \cdot \frac{\lambda_0}{n_2}} \Rightarrow$$
$$\Rightarrow \frac{1}{2} = \frac{n_2 \cdot 10^5}{\kappa \cdot n_1} \Rightarrow \frac{1}{2} = \frac{1,5 \cdot n_1 \cdot 10^5}{\kappa \cdot n_1} \Rightarrow \frac{1}{2} = \frac{3 \cdot 10^5}{2\kappa} \Rightarrow \kappa = 3 \cdot 10^5 \text{ μ.κ. του } \lambda_2.$$

Σωστή η απάντηση (γ).

B2. Η πρώτη δέσμη που απορροφάται πλήρως από την πλάκα έχει μεγαλύτερο μ.κ. από τη δεύτερη που τη διαπερνά.

Ισχύει:

$$\lambda_{\min 1} > \lambda_{\min 2} \Rightarrow \frac{c \cdot h}{e \cdot V_1} > \frac{c \cdot h}{e \cdot V_2} \Rightarrow$$
$$\Rightarrow \frac{1}{V_1} > \frac{1}{V_2} \Rightarrow V_2 > V_1.$$

Σωστή η απάντηση (β).

B3.

$$A_X = 250 \qquad A_Y = 100$$
$$(X) \left(\frac{E_B}{A} \right)_X = 7,5 \text{ MeV} \qquad (Y) \left(\frac{E_B}{A} \right)_Y = 8,8 \text{ MeV}$$

$$A_{\Omega} = 150$$

$$\left(\frac{E_B}{A}\right)_{\Omega} = 8,2 \text{ MeV}$$

$$E_{B_X} = A_X \cdot 7,5 = 250 \cdot 7,5 = 1875 \text{ MeV}$$

$$E_{B_Y} = A_Y \cdot 8,8 = 100 \cdot 8,8 = 880 \text{ MeV}$$

$$E_{B_{\Omega}} = A_{\Omega} \cdot 8,2 = 150 \cdot 8,2 = 1230 \text{ MeV}$$

$$Q = -E_{B_X} + E_{B_Y} + E_{B_{\Omega}} \Rightarrow$$

$$Q = -1875 + 880 + 1230 \Rightarrow$$

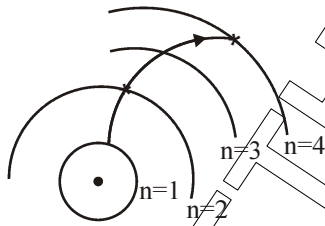
$$Q = +235 \text{ MeV} > 0$$

Εκλύεται ενέργεια.

ΘΕΜΑ Γ

Γ1. $L_n = n \cdot \hbar \Rightarrow L_4 = 4\hbar = 4 \cdot 10^{-34} \text{ J} \cdot \text{s}$

Γ2.



$$E_{\delta\epsilon\gamma} = E_4 - E_1 = \frac{E_1}{4^2} - E_1 = \frac{E_1}{16} - E_1 = \frac{-15E_1}{16} \Leftrightarrow$$

$$E_{\delta\epsilon\gamma} = 12,75 \text{ eV}$$

$$K \geq E_{\delta\epsilon\gamma} \Rightarrow$$

$$\left. \begin{array}{l} K_{\min} = E_{\delta\epsilon\gamma} \\ K = eV \Rightarrow K_{\min} = eV_{\min} \end{array} \right\} \Rightarrow E_{\delta\epsilon\gamma} = eV_{\min} \Rightarrow V_{\min} = \frac{E_{\delta\epsilon\gamma}}{e} \Rightarrow V_{\min} = 12,75 \text{ Volt}.$$

Γ3. Ισχύει:

$$K = -E$$

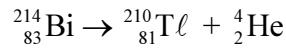
$$\frac{K_4}{K_1} = \frac{-E_4}{-E_1} \Rightarrow \frac{K_4}{K_1} = \frac{E_4}{E_1} \Rightarrow \frac{K_4}{K_1} = \frac{\frac{E_1}{4^2}}{\frac{E_1}{1}} \Rightarrow \frac{K_4}{K_1} = \frac{1}{16}.$$

Γ4. $U = 2E \Rightarrow U_4 = 2E_4 \Rightarrow U_4 = \frac{2E_1}{4^2} \Rightarrow U_4 = \frac{2E_1}{16} \Rightarrow U_4 = \frac{E_1}{8} \Rightarrow U_4 = \frac{-13,6}{8}.$

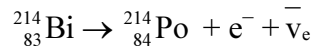
$$U_4 = -1,7 \text{ eV}$$

ΘΕΜΑ Δ

Δ1 Διάσπαση α



Διάσπαση β⁻



Δ2 Αρχικά θα βρούμε τη σταθερά διάσπασης λ.

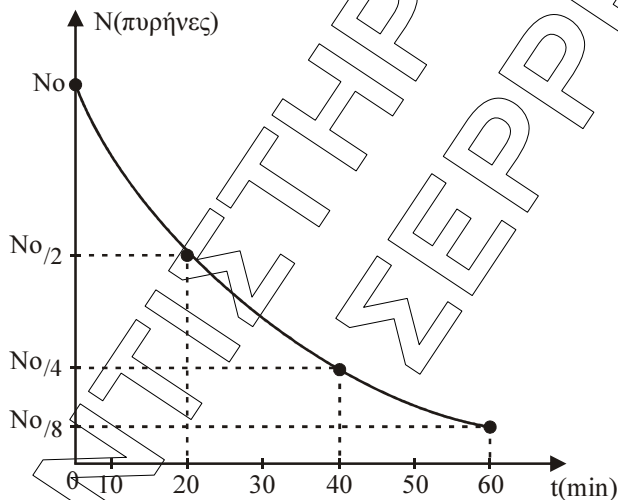
$$\text{Ισχύει: } T_{1/2} = \frac{\ln 2}{\lambda} \Rightarrow \lambda = \frac{\ln 2}{T_{1/2}} \Rightarrow \lambda = \frac{0,7}{1200} \text{ sec}^{-1}$$

Άρα η ενεργότητα του δείγματος τη χρονική στιγμή $t_1 = 60 \text{ min} = 3600 \text{ sec}$ είναι:
 $t_1 = 60 \text{ min} = 3 T_{1/2}$

$$N_0 \xrightarrow{T_{1/2}} \frac{N_0}{2} \xrightarrow{T_{1/2}} \frac{N_0}{4} \xrightarrow{T_{1/2}} N_1 = \frac{N_0}{8}$$

$$\left| \frac{\Delta N}{\Delta t} \right|_1 = \lambda \cdot N_1 = \lambda \cdot \frac{N_0}{8} = \frac{\ln 2}{T_{1/2}} \cdot \frac{N_0}{8} = \frac{\ln 2}{1200} \cdot \frac{9,6 \cdot 10^{18}}{8} = 0,07 \cdot 10^{16} = 7 \cdot 10^{14} \text{ Bq}$$

Δ3

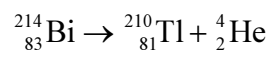


όπου $N_0 = 9,6 \cdot 10^{18}$ πυρήνες
 και $T_{1/2} = 20 \text{ min}$ (χρόνος διπλασιασμού).

Δ4. Στο χρονικό διάστημα από $t_0 = 0$ έως $t_2 = 40 \text{ min} = 2 T_{1/2}$ έχουν διασπαστεί:

$$N = N_0 - \frac{N_0}{4} \Rightarrow N = \frac{3N_0}{4} \Rightarrow N = \frac{3 \cdot 9,6 \cdot 10^{18}}{4} \Rightarrow N = 7,2 \cdot 10^{18} \text{ πυρήνες.}$$

Από τους παραπάνω διασπασθέντες πυρήνες το 0,4% των διασπάσεων είναι διασπάσεις α. Η καθμία από αυτές δίνει ένα σωματίο α σύμφωνα με την αντίδραση:



Άρα ο αριθμός των σωματίων (α) που παράχθηκαν είναι:

$$\frac{0,4}{100} \cdot 7,2 \cdot 10^{18} = 2,88 \cdot 10^{16}.$$

ΦΡΟΝΤΙΣΤΗΡΙΟ ΚΟΡΥΦΗ
ΣΕΡΡΕΣ